

QUESTIONNAIRE JEUNES JUGES OFFICIELS

STARTER

NOM :

PRENOM :

ETABLISSEMENT :

ACADEMIE :

NOTE /20

1- Répondez aux affirmations suivantes ci-dessous par vrai ou faux :

/6 pts

	VRAI	FAUX
- Le départ du 1000m benjamins vient juste d'être donné selon les règles, vous constatez une bousculade et une chute dans le peloton, devez-vous rappeler comme pour un faux départ		
C'est le starter qui fait l'appel des athlètes pour les placer dans les couloirs		
C'est l'aide starter qui signale les faux départs		
Le starter doit prévenir un chronométreur quelconque avant de donner le départ		
Le starter peut tirer un second coup de feu en cas de faux départ		
Lors d'une compétition UNSS de niveau national, un concurrent qui n'a pas été responsable du faux départ lors de la première procédure de départ mais qui est responsable d'un faux départ lors de la seconde procédure est disqualifié		

2- Jusqu'à quelle distance utilise-t-on des starting-blocks ? /1pt

-

3- Combien y a-t-il de commandements avant le coup de feu sur : /1pt

- un 50m haies ? : - quels sont-ils ?:

- un 1000m ? : - quels sont-ils ?:

- un 400m ? : - quels sont-ils ?:

4- Quelle est la personne qui prévient le starter pour lui dire que les chronométreurs sont prêts et qu'il peut donner le départ ?

/1pt

-

5- Par quel **moyen** le starter est-il informé que les chronométreurs sont prêts pour le départ ?

/1pt

-

6- En cas de problème, auprès de quelle personne le starter doit-il s'adresser pour faire recourir une course ?

/1pt

-

7- A chacune des questions citées ci-dessous, vous indiquerez avec des flèches si le rôle revient au **starter**, à l'**aide starter** ou bien au **starter de rappel** :

/2pts

Vérifie la position des concurrents
Appelle le chef chronométreur par un coup de sifflet
Rappelle les faux départs
Appelle et place les coureurs dans leurs couloirs
Indique le faux départ à l'athlète
Donne les commandements de départ

Aide starter

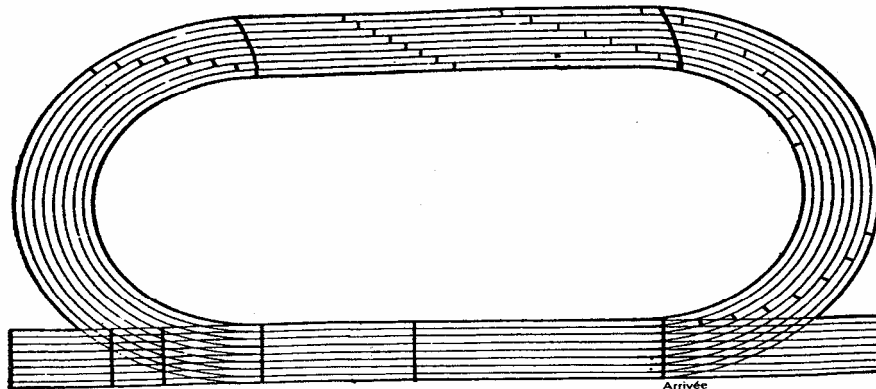
Starter

Starter de rappel

8- Sur le schéma ci-dessous vous indiquerez les départs des courses suivantes :

/5pts

100m – 50m haies – 1000m – 4x100m – 110m haies
200m – 4x60m - 80m haies – 300m – 320m haies



8- Sur le schéma ci-dessus vous indiquerez le départ pour :

/2pts

- le 4^{ème} couloir du 200m

- Le 3^{ème} couloir sur la ligne du 100m

- Le 6^{ème} couloir du 4x80m

CORRIGE

QUESTIONNAIRE JEUNES JUGES OFFICIELS

STARTER

NOM :

PRENOM :

ETABLISSEMENT :

ACADEMIE :

NOTE /20

1- Répondez aux affirmations suivantes ci-dessous par vrai ou faux :

/6 pts

	VRAI	FAUX
- Le départ du 1000m benjamins vient juste d'être donné selon les règles, vous constatez une bousculade et une chute dans le peloton, devez-vous rappeler comme pour un faux départ		X
C'est le starter qui fait l'appel des athlètes pour les placer dans les couloirs		X
C'est l'aide starter qui signale les faux départs		X
Le starter doit prévenir un chronométreur quelconque avant de donner le départ		X
Le starter peut tirer un second coup de feu en cas de faux départ	X	
Lors d'une compétition UNSS de niveau national, un concurrent qui n'a pas été responsable du faux départ lors de la première procédure de départ mais qui est responsable d'un faux départ lors de la seconde procédure est disqualifié	X	

2- Jusqu'à quelle distance utilise-t-on des starting-blocks ?

/1pt

- 400m

3- Combien y a-t-il de commandements avant le coup de feu sur :

/1pt

- un 50m haies ? : 2

- quels sont-ils ? : A vos marques ; prêt

- un 1000m ? : 1

- quels sont-ils ? : A vos marques

- un 400m ? : 2

- quels sont-ils ? : A vos marques ; prêt

4- Quelle est la personne qui prévient le starter pour lui dire que les chronométreurs sont prêts et qu'il peut donner le départ ?

/1pt

- Le chef chronométreur

5- Par quel **moyen** le starter est-il informé que les chronométreurs sont prêts pour le départ ?

/1pt

- Un coup de sifflet

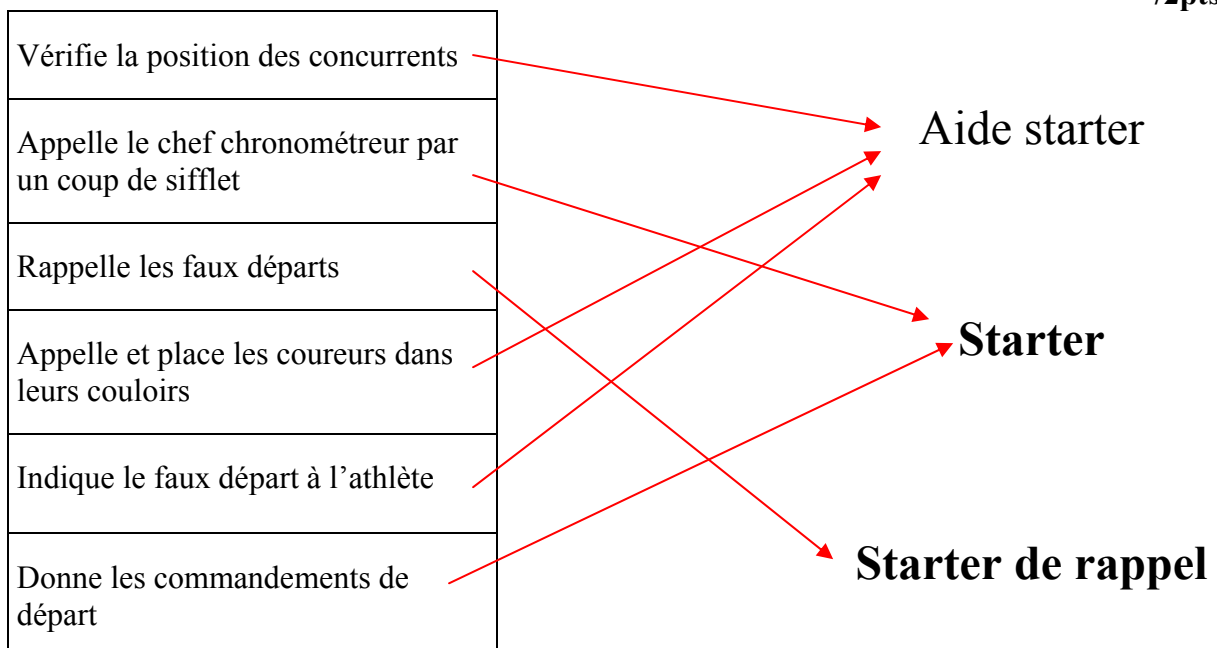
6- En cas de problème, auprès de quelle personne le starter doit-il s'adresser pour faire recourir une course ?

/1pt

- Le juge arbitre course

7- A chacune des questions citées ci-dessous, vous indiquerez avec des flèches si le rôle revient au **starter**, à l'**aide starter** ou bien au **starter de rappel** :

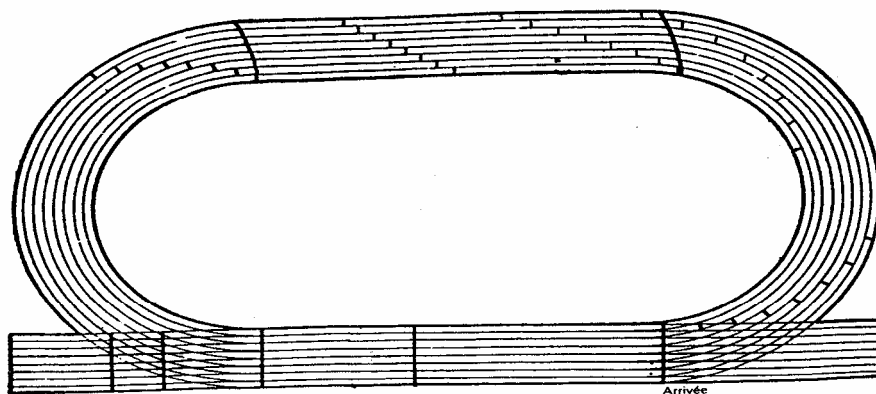
/2pts



8- Sur le schéma ci-dessous vous indiquerez les départs des courses suivantes :

/5pts

100m – 50m haies – 1000m – 4x100m – 110m haies
 200m – 4x60m - 80m haies – 300m – 320m haies



9- Sur le schéma ci-dessus vous indiquerez le départ pour :

/2pts

- le 4^{ème} couloir du 200m

- Le 3^{ème} couloir sur la ligne du 100m

- Le 6^{ème} couloir du 4x80m